


سوالیات امتحان هماهنگ درس: حسابان ۱	پایه: یازدهم دوره دوم متوسطه	ساعت شروع: ۱۶ عصر	رشته: ریاضی فیزیک
نام و نام خانوادگی:	تاریخ امتحان: ۱۴۰۲/۰۳/۰۸	تعداد صفحات: ۲	مدت امتحان: ۱۱۰ دقیقه
دانش آموزان روزانه سراسر کشور در نوبت خردادماه سال ۱۴۰۲		 http://azmoon.gaj.ir	

ردیف	استفاده از ماشین حساب ساده بلامانع است	بارم
------	--	------

۱	<p>درستی یا نادرستی هریک از عبارات زیر را مشخص کنید.</p> <p>الف) اگر دامنه دو تابع باهم برابر و برد آنها نیز با هم برابر باشند، دو تابع برابرند.</p> <p>ب) تابع $g(x) = \sqrt{x-3}$ در نقطه $x = 3$ حد ندارد.</p> <p>پ) برای هر دو تابع f, g داریم: $f \cdot g = g \cdot f$</p> <p>ت) لگاریتم هر عدد مثبت همواره عددی مثبت است.</p>	۱
۱/۵	<p>جاهای خالی را با عبارات مناسب کامل کنید.</p> <p>الف) حاصل عبارت $\tan(-60^\circ)$ برابر با است.</p> <p>ب) زاویه مرکزی روبه رو به کمانی به طول $\frac{1}{8}$ cm در دایره ای به شعاع 4 cm برابر رادیان است.</p> <p>پ) در تابع $f(x) = a^x$ اگر $0 < a < 1$ باشد با افزایش مقادیر x مقادیر تابع f می یابند.</p>	۲
۱	<p>گزینه درست را انتخاب کنید.</p> <p>الف) حاصل عبارت $[7x] - [2x]$ به ازای $x = -\frac{1}{4}$ کدام است.</p> <p>(۱) -2 (۲) -3 (۳) 2 (۴) 3</p> <p>ب) مجموع چند جمله از دنباله حسابی $...., 12, 7, x$ برابر 60 است.</p> <p>(۱) 3 (۲) 4 (۳) 5 (۴) 6</p> <p>پ) حاصل عبارت $\log_7 \sqrt[3]{49^2}$ کدام گزینه است.</p> <p>(۱) $\frac{2}{3}$ (۲) $\frac{4}{3}$ (۳) $\frac{1}{3}$ (۴) $-\frac{4}{3}$</p> <p>ت) حاصل عبارت $\tan(\theta - \frac{\pi}{4})$ کدام گزینه است.</p> <p>(۱) $\tan\theta$ (۲) $-\tan\theta$ (۳) $\cot\theta$ (۴) $-\cot\theta$</p>	۳
۱	<p>نمودار تابع $f(x) = x - 3$ را رسم کنید و به کمک آن معادله $f(x) = 2$ را حل کنید.</p>	۴
۱/۲۵	<p>معادله زیر را به روش جبری حل کنید.</p> $1 + \sqrt{x+2} = x - 3$	۵
۱/۵	<p>دو خط $2x - 2y = 2$ و $3x + 3y = 1$ معادله های دو ضلع یک مستطیل اند و نقطه $A(1,3)$ یک رأس مستطیل است. مساحت این مستطیل چقدر است؟</p>	۶
۱/۵	<p>توابع $f(x) = \sqrt{x+1}$ و $g(x) = x^2 + 3$ را در نظر بگیرید.</p> <p>الف) دامنه تابع gof را بیابید.</p> <p>ب) ضابطه تابع fog را بیابید.</p>	۷


بسمه تعالی

سوالیات امتحان هماهنگ درس: حسابان ۱	پایه: یازدهم دوره دوم متوسطه	ساعت شروع: ۱۶ عصر	رشته: ریاضی فیزیک
نام و نام خانوادگی:	تاریخ امتحان: ۱۴۰۲/۰۳/۰۸	تعداد صفحات: ۲	مدت امتحان: ۱۱۰ دقیقه
دانش آموزان روزانه سراسر کشور در نوبت خردادماه سال ۱۴۰۲		http://azmoon.gaj.ir	



ردیف	استفاده از ماشین حساب ساده بلامانع است	بارم
------	--	------

۸	دامنه تابع $f(x) = x^2 - 4x + 5$ را طوری محدود کنید که تابعی وارون پذیر شود.	۰/۷۵
۹	معادله لگاریتمی زیر را حل کنید. $\log(x - 1) + \log\left(\frac{x}{3} + 1\right) = \log 18 - \log 2$	۱/۵
۱۰	نیمه عمر عنصری ۲۵ سال است اگر جرم اولیه آن ۲۴ میلی گرم باشد بعد از ۴۰ سال جرم این عنصر چقدر خواهد بود؟ ($2^{-1.6} \approx 0.32$)	۰/۵
۱۱	الف) نمودار تابع مثلثاتی $y = \sin\left(x + \frac{\pi}{6}\right)$ را در بازه $[0, 2\pi]$ رسم کنید. ب) نمودار تابع قسمت (الف) در چه نقاطی محور x ها را قطع می کند.	۱/۲۵
۱۲	فرض کنید $\cos\beta = \frac{12}{13}$ و $\sin\alpha = -\frac{4}{5}$ و انتهای کمان α در ربع چهارم و انتهای کمان β در ربع اول باشد حاصل $\cos(\alpha - \beta)$ را بیابید.	۱/۵
۱۳	الف) نمودار تابع f را به گونه ای رسم کنید که در یک همسایگی محذوف نقطه $x = 3$ تعریف شود ولی در این نقطه حد نداشته باشد. ب) نمودار تابع g را به گونه ای رسم کنید که در نقطه $x = -2$ حد راست داشته باشد ولی در این نقطه پیوستگی راست نداشته باشد.	۱/۲۵
۱۴	حاصل حدهای زیر را بیابید. الف) $\lim_{x \rightarrow 3} \frac{x^2 - 9}{\sqrt{3x} - 5 - 2}$ ب) $\lim_{x \rightarrow 0} \frac{2 - 2\cos 2x}{x \sin x}$	۳
۱۵	مقدار α را طوری بیابید که تابع $g(x) = ([x] - \alpha)[x]$ در نقطه $x = -2$ پیوسته باشد.	۱/۵
	موفق باشید و سربلند	جمع نمره
		۲۰

ساعت شروع: ۱۶ عصر	رشته: ریاضی فیزیک	راهنمای تصحیح سوالات امتحان هماهنگ درس: حسابان ۱
تعداد صفحات: ۳	تاریخ امتحان: ۱۴۰۲/۰۳/۰۸	پایه: یازدهم دوره دوم متوسطه
 http://azmoon.gaj.ir		دانشی آموزان روزانه سراسر کشور در نوبت خردادماه سال ۱۴۰۲

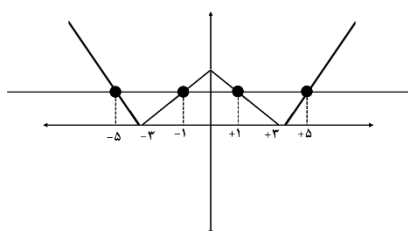
بارم	ردیف
۱	۱
۱/۵	۲
۱	۳
۱	۴
۱/۲۵	۵
۱/۵	۶
۱/۵	۷
۰/۷۵	۸

الف) نادرست (۰/۲۵) ب) درست (۰/۲۵) پ) درست (۰/۲۵) ت) نادرست (۰/۲۵)

الف) $-\sqrt{3}$ (۰/۵) ب) $\frac{1}{3}$ (۰/۵) پ) کاهش (۰/۵)

الف) گزینه ۲ (۰/۲۵) ب) گزینه ۳ (۰/۲۵) پ) گزینه ۲ (۰/۲۵) ت) گزینه ۴ (۰/۲۵)

جواب های معادله $x = \pm 1$ و $x = \pm 5$ می باشند. (۰/۵)



رسم نمودار (۰/۵)

$\sqrt{x+2} = x-4 \rightarrow x+2 = x^2 - 8x + 16 \rightarrow x^2 - 9x + 14 = 0 \rightarrow (x-7)(x-2) = 0$
 (۰/۲۵) (۰/۲۵) (۰/۲۵)

$x = 2$ غ ق ق (۰/۲۵)

$x = 7$ (۰/۲۵)

دو خط برهم عمودند و نقطه A روی این دو خط قرار ندارد، برای به دست آوردن طول و عرض مستطیل کافیت
 فاصله نقطه A را از این دو خط به دست آوریم: (۰/۲۵)

$$AH = \frac{|2 \times 1 + 3 \times 3 - 1|}{\sqrt{2^2 + 3^2}} = \frac{10}{\sqrt{13}} \quad (۰/۵)$$

$$\text{مساحت مستطیل} = \frac{10}{\sqrt{13}} \times \frac{5}{\sqrt{13}} = \frac{50}{13} \quad (۰/۲۵)$$

$$AH' = \frac{|3 \times 1 - 2 \times 3 - 2|}{\sqrt{2^2 + 3^2}} = \frac{5}{\sqrt{13}} \quad (۰/۵)$$

الف) $D_f = [-1, \infty)$, $D_g = \mathbb{R}$ (۰/۵)

$$D_{g \circ f} = \{x \geq -1 \mid \sqrt{x+1} \in \mathbb{R}\} = [-1, +\infty)$$

(۰/۲۵) (۰/۲۵)

ب)

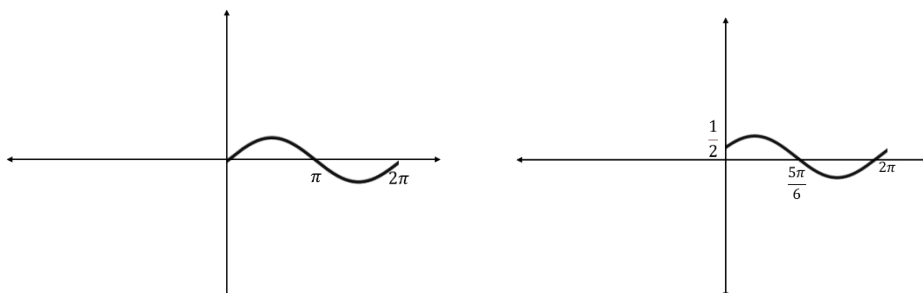
$$f \circ g(x) = f(g(x)) = f(x^2 + 3) = \sqrt{x^2 + 4} \quad (۰/۵)$$


$f(x) = (x-2)^2 + 1$ (۰/۵)

در بازه های $[2, \infty)$ یا $(-\infty, 2]$ یا هر زیر مجموعه این دو بازه تابع یک به یک است. (۰/۲۵)

ساعت شروع: ۱۶ عصر	رشته: ریاضی فیزیک	راهنمای تصحیح سوالات امتحان هماهنگ درس: حسابان ۱
تعداد صفحات: ۳	تاریخ امتحان: ۱۴۰۲/۰۳/۰۸	پایه: یازدهم دوره دوم متوسطه
 http://azmoon.gaj.ir		دانشی آموزان روزانه سراسر کشور در نوبت خردادماه سال ۱۴۰۲

بارم	ردیف
------	------

۱/۵	$\log(x - 1) + \log\left(\frac{x}{2} + 1\right) = \log 18 - \log 2 \rightarrow \log(x - 1)\left(\frac{x}{2} + 1\right) = \log \frac{18}{2} \rightarrow$ $(x - 1)\left(\frac{x}{2} + 1\right) = 9 \rightarrow \frac{x^2}{2} + \frac{x}{2} - 10 = 0 \rightarrow x^2 + x - 20 = 0 \rightarrow (x + 5)(x - 4) = 0$ $x = -5 \quad (0/25) \quad x = 4 \quad (0/25)$	۹
۰/۵	$m(40) = 24 \left(2^{-\frac{40}{25}}\right) = 24 \times 0.32 = 7.68 \quad (0.5)$	۱۰
۱/۲۵	 <p>الف) با توجه به نمودار $y = \sin(x)$ و با انتقال این نمودار به اندازه $\frac{\pi}{6}$ به سمت چپ بر روی محور Xها نمودار مورد نظر به دست می آید. رسم نمودار (۰/۷۵) ب) نمودار تابع در نقاط $\frac{11\pi}{6}, \frac{5\pi}{6}$ محور xها را قطع می کند. (۰/۵)</p>	۱۱
۱/۵	$\sin^2 \beta = 1 - \cos^2 \beta = 1 - \left(\frac{12}{13}\right)^2 = 1 - \frac{144}{169} = \frac{25}{169} \Rightarrow \sin \beta = \frac{5}{13} \quad 0.5 \text{ نمره}$ $\cos^2 \alpha = 1 - \sin^2 \alpha = 1 - \left(-\frac{4}{5}\right)^2 = 1 - \frac{16}{25} = \frac{9}{25} \Rightarrow \cos \alpha = \frac{3}{5} \quad 0.5 \text{ نمره}$ $\cos(\alpha - \beta) = \cos \alpha \cos \beta + \sin \alpha \sin \beta = \left(\frac{3}{5}\right)\left(\frac{12}{13}\right) + \left(-\frac{4}{5}\right)\left(\frac{5}{13}\right) = \frac{16}{65} \quad 0.5 \text{ نمره}$	۱۲
۱/۲۵	<p>الف) (۰/۵) ب) (۰/۷۵) با توجه به نمودار رسم شده نمره لازم تعلق گیرد.</p>	۱۳
۳	$\lim_{x \rightarrow 3} \frac{x^2 - 9}{\sqrt{3x - 5} - 2} = \frac{0}{0} \Rightarrow \lim_{x \rightarrow 3} \frac{(x - 3)(x + 3)(\sqrt{3x - 5} + 2)}{(\sqrt{3x - 5} - 2)(\sqrt{3x - 5} + 2)}$ $= \lim_{x \rightarrow 3} \frac{(x - 3)(x + 3)(\sqrt{3x - 5} + 2)}{3x - 5 - 4} = \lim_{x \rightarrow 3} \frac{(x - 3)(x + 3)\sqrt{3x - 5} + 2}{3(x - 3)}$ $= \lim_{x \rightarrow 3} \frac{(x + 3)(\sqrt{3x - 5} + 2)}{3} = \frac{24}{3} = 8 \quad (0.5)$ <p>ب) $\lim_{x \rightarrow 0} \frac{2 - 2 \cos 2x}{x \sin x} = \frac{0}{0} \Rightarrow \lim_{x \rightarrow 0} \frac{2(1 - \cos 2x)}{x \sin x} \quad (0/25)$</p>	۱۴

ساعت شروع: ۱۶ عصر	رشته: ریاضی فیزیک	راهنمای تصحیح سوالات امتحان هماهنگ درس: حسابان ۱
تعداد صفحات: ۳	تاریخ امتحان: ۱۴۰۲/۰۳/۰۸	پایه: یازدهم دوره دوم متوسطه
 http://azmoon.gaj.ir		دانشی آموزان روزانه سراسر کشور در نوبت خردادماه سال ۱۴۰۲

بارم	ردیف
------	------

	$\rightarrow \lim_{x \rightarrow 0} \frac{2(2 \sin^2 x)}{x \sin x} = \lim_{x \rightarrow 0} \frac{4 \sin x}{x} \cdot \lim_{x \rightarrow 0} \frac{\sin x}{\sin x} = 4 \times 1 = 4 \quad \cdot/۲۵$ <p style="text-align: center;">۱ نمره</p>	
۱/۵	$\lim_{x \rightarrow -2^-} ([x] - a)[x] = \lim_{x \rightarrow -2^-} ([-2^-] - a)[-2^-] = (-3 - a)(-3) = 9 + 3a \quad \cdot/۵$ $\lim_{x \rightarrow -2^+} ([x] - a)[x] = \lim_{x \rightarrow -2^+} ([-2^+] - a)[-2^+] = (-2 - a)(-2) = 4 + 2a \quad \cdot/۵$ $f(-2) = ([-2] - a)[-2] = (-2 - a)(-2) = 4 + 2a \quad \cdot/۲۵$ $9 + 3a = 4 + 2a \Rightarrow a = -5 \quad \cdot/۲۵$ <p>برای بررسی پیوستگی باید در نقطه $x = -2$ حد چپ و راست و مقدار تابع برابر باشند.</p>	۱۵